

PROVA OBJETIVA
TÉCNICO MUNICIPAL DE NÍVEL SUPERIOR
ÁREA:
ECONOMIA

INSTRUÇÕES

- Verifique se este caderno contém 50 questões, sendo 15 de Língua Portuguesa, 05 de Noções de Informática, 05 de Conhecimentos Gerais e 25 de Conhecimentos Específicos.
- Verifique na Folha de Respostas se o seu nome e número do documento de identificação estão corretos.
- Em cada questão, você deve assinalar somente uma das alternativas.
- Será anulada a questão que contiver emenda, rasura ou, ainda, a que apresentar mais de uma alternativa assinalada na Folha de Respostas.
- Ao marcar a alternativa correta na Folha de Respostas, use caneta esferográfica de tinta preta, ponta grossa.
- Ao final da prova, devolva ao fiscal de sala a Folha de Respostas assinada no local indicado.
- Os 2 (dois) últimos candidatos de cada sala só poderão ser liberados juntos.

CERTO

	A	B	C	D	E
1	<input checked="" type="radio"/>	<input type="radio"/>	<input type="radio"/>	<input type="radio"/>	<input type="radio"/>
2	<input type="radio"/>	<input checked="" type="radio"/>	<input type="radio"/>	<input type="radio"/>	<input type="radio"/>
3	<input type="radio"/>	<input type="radio"/>	<input checked="" type="radio"/>	<input type="radio"/>	<input type="radio"/>
4	<input type="radio"/>	<input type="radio"/>	<input type="radio"/>	<input checked="" type="radio"/>	<input type="radio"/>
5	<input type="radio"/>	<input type="radio"/>	<input type="radio"/>	<input type="radio"/>	<input checked="" type="radio"/>
6	<input type="radio"/>	<input type="radio"/>	<input type="radio"/>	<input type="radio"/>	<input checked="" type="radio"/>

ERRADO

	A	B	C	D	E
21	<input checked="" type="radio"/>	<input type="radio"/>	<input type="radio"/>	<input type="radio"/>	<input type="radio"/>
22	<input type="radio"/>	<input checked="" type="radio"/>	<input type="radio"/>	<input type="radio"/>	<input type="radio"/>
23	<input type="radio"/>	<input checked="" type="radio"/>	<input type="radio"/>	<input type="radio"/>	<input type="radio"/>
24	<input type="radio"/>	<input checked="" type="radio"/>	<input type="radio"/>	<input type="radio"/>	<input type="radio"/>
25	<input type="radio"/>	<input checked="" type="radio"/>	<input type="radio"/>	<input type="radio"/>	<input type="radio"/>
26	<input checked="" type="radio"/>	<input type="radio"/>	<input type="radio"/>	<input checked="" type="radio"/>	<input type="radio"/>

Boa prova!

A duração total da prova é de 3 horas. Este tempo inclui a marcação da Folha de Respostas.
Você só poderá levar o Caderno de Provas após transcorridas 2h 30 min (duas horas e trinta minutos) do início das provas.

NOME _____

INSCRIÇÃO _____

DATA / HORÁRIO _____



Língua Portuguesa

Leia o texto **A** para responder às questões de **01 a 07**.

TEXTO A

Os produtos derivados de soja sempre foram conhecidos por duas características. A primeira é a fama de que fazem bem à saúde. Essa fama é justificada pelos nutricionistas. Eles dizem que bebidas ou alimentos feitos a partir da soja aumentam o colesterol bom no sangue e são indicados como fonte de cálcio, entre outros nutrientes. A segunda característica é bem menos lisonjeira para o grão, nativo da China. Pelo menos no Brasil, a soja sempre foi tida como um alimento de sabor desagradável. E é por isso que as bebidas derivadas de soja nunca fizeram muito sucesso por aqui.

Então como se explica que as vendas de sucos de soja tenham crescido em torno de 25% ao ano desde 2002? A explicação está nos pesados investimentos que a indústria de bebidas fez na soja nos últimos anos. O que moveu os grandes fabricantes foi o crescente mercado de produtos saudáveis no mundo inteiro. Além disso, as bebidas derivadas de soja são mais elaboradas e podem ser vendidas por um preço maior que os sucos comuns e dar mais lucro.

(Revista Época, 10 de dezembro de 2007).

01

Sobre o texto, pode-se afirmar:

- I. A soja faz bem à saúde, motivo que impulsionou o investimento de produtores.
- II. Os investidores aproveitam a fama de alimento saudável para aumentar os lucros com os produtos derivados da soja.
- III. O aumento na venda dos sucos de soja deve-se a uma melhor elaboração do produto.
- IV. Na China e no Brasil o sabor da soja é desagradável ao paladar.

Está **CORRETO** o que se afirma em:

- a) I e III, apenas.
- b) I, II e III, apenas.
- c) II e IV, apenas.
- d) III e IV, apenas.
- e) I, II, III e IV.

02

“A segunda característica é bem menos **lisonjeira** para o grão...”.

O termo sublinhado pode ser substituído, no contexto em que se apresenta, sem prejuízo de sentido para o texto, por

- a) forte.
- b) depreciativa.
- c) aleatória.
- d) pertinente.
- e) satisfatória.

03

Na oração “A primeira é a fama de que fazem bem à saúde.”, há a presença de um recurso expressivo denominado:

- a) assíndeto.
- b) inversão.
- c) elipse.
- d) antítese.
- e) hipérbole.

04

Assinale a alternativa cujo par de expressões apresenta construções com anteposição do adjetivo.

- a) grandes fabricantes/crescentes mercados
- b) bebidas derivadas/sucos comuns
- c) crescentes mercados/mundo inteiro
- d) produtos saudáveis/grandes fabricantes
- e) sucos comuns/mundo inteiro

05

Em “**O** que moveu os grandes fabricantes...” o elemento destacado classifica-se, segundo a gramática normativa prescritiva, como:

- a) pronome pessoal.
- b) artigo.
- c) preposição.
- d) pronome demonstrativo.
- e) conjunção.

06

Em qual das alternativas a seguir o elemento sublinhado é uma preposição?

- a) “...**a** soja sempre foi...”
- b) “**A** segunda...”
- c) “...feitos **a** partir...”
- d) “...que **a** indústria...”
- e) “**A** explicação está...”

07

“Então como se explica que as vendas de sucos de soja tenham crescido em torno de 25% ao ano desde 2002?”.

Qual das alternativas a seguir apresenta o período acima com uma pontuação que **NÃO** altera o seu sentido?

- Então, como se explica que as vendas de sucos de soja tenham crescido em torno de 25% ao ano desde 2002?
- Então, como se explica, que as vendas de sucos de soja tenham crescido em torno de 25% ao ano desde 2002?
- Então como se explica, que as vendas de sucos de soja tenham crescido em torno de 25% ao ano desde 2002?
- Então como se explica que as vendas, de sucos de soja tenham, crescido em torno de 25% ao ano desde 2002?
- Então como, se explica que, as vendas de sucos de soja tenham crescido em torno de 25% ao ano desde 2002?

Leia o texto **B** para responder às questões de **08 a 13**.

TEXTO B

Janus, o deus das portas e transições da mitologia romana, deu seu nome ao mês de janeiro pela capacidade de simultaneamente ver passado e futuro. Ele é uma inspiração para que a cada início de ano façamos um balanço do que aconteceu e do que podemos esperar (e desejar) dos próximos doze meses.

Nesse espírito, acredito que poucos discordem da avaliação de que 2007 foi um ano excepcionalmente bom para o Brasil, em especial na frente econômica, em que a manutenção da estabilidade monetária e o acelerado crescimento da prosperidade mundial contribuíram para um ano de recordes.

Foram criados mais de 2 milhões de empregos formais e o crédito cresceu mais de 50% em um ano.[...]

Mas acredito que a moralidade pública continua sendo uma questão essencial. Ao longo de 2007, assistimos - mais uma vez - a lamentáveis demonstrações do desprezo que nossos representantes no Congresso têm pelo decoro, pelas próprias normas de conduta e pela opinião pública. É forçoso admitir que uma réstia de esperança se acendeu com as enérgicas ações do Ministério Público e da Polícia Federal e, em especial, com o belo exemplo do Supremo Tribunal Federal ao acolher a denúncia contra os quarenta envolvidos no escândalo do mensalão.

Aqui também é preciso obstinação. A exceção tem de virar regra. Como já prescrevia Montesquieu no século XVIII, “não se constrói uma sociedade baseada na virtude dos homens, e sim na solidez das instituições”.

(Roberto Civita in: Revista Veja, 29 de dezembro de 2007).

08

No primeiro parágrafo o autor

- apóia-se em uma auto-suficiência humana e agnóstica.
- demonstra sua fé cristã com a esperança de um amanhã promissor.
- induz à profissão de uma religiosidade apostólica romana, em busca de acertos.
- restringe-se a uma dedução própria do racional sem nenhuma ilustração intertextual.
- dá indícios de ser sectário de uma cultura legendária.

09

No quarto parágrafo do texto, o verbo “**continua**” e a expressão “**mais uma vez**” conduzem para a inferência de que

- os fatos criticados receberam, a cada dia, um tratamento diferente no ano passado.
- a permanência de um desafio imprescindível é obrigatória.
- os acontecimentos criticados foram todos desanimadores no decorrer do ano findo.
- o país está avançando progressivamente na linha moral.
- a ordem essencial é continuar assistindo aos acontecimentos lamentáveis.

10

Assinale a afirmativa **VERDADEIRA** sobre a estrutura lingüística do texto.

- A conjunção “**em que**”, no segundo parágrafo, evita apenas a repetição da locução equivalente “**de que**” já usada no mesmo parágrafo.
- A regência do verbo discordar, no segundo parágrafo, permite trocar a preposição que lhe segue pela preposição “**com**”, preservando a correção gramatical sem alterar o sentido.
- A relação de sentido entre os dois primeiros períodos, do primeiro parágrafo, permite subentender uma idéia conclusiva, podendo ser expressa pela locução **em vista disso**, antes de “Ele é...”.
- A forma plural “**Foram criadas**” é uma forma alternativa de uso para “**Foi criado**”, no terceiro parágrafo, cabendo, portanto, nesse caso, as duas formas.
- No terceiro parágrafo, no que diz respeito ao agente da ação verbal, o autor construiu a frase com o verbo na voz ativa.

11

O antônimo adequado para a palavra grifada em "Aqui também é preciso **obstinação**." é

- a) instigação.
- b) implantação.
- c) perseverança.
- d) inconstância.
- e) transigência.

12

No último parágrafo a primeira vírgula e as aspas foram usadas, respectivamente, para

- a) separar uma oração apositiva / indicar um neologismo.
- b) destacar uma locução adverbial / destacar uma expressão.
- c) referenciar uma oração principal / ironizar um provérbio.
- d) ligar um termo de igual função a outro / enfatizar o pensamento do editor do texto.
- e) separar uma oração subordinada antecipada / marcar uma citação.

13

"Ele é uma inspiração para que a cada início de ano façamos um balanço do que aconteceu e do que podemos esperar (e desejar) dos próximos doze meses."

Sobre esse trecho, analise as proposições a seguir e, em relação a elas, assinale a opção **CORRETA**.

- I. Os verbos **acontecer** e **poder** apresentam-se com o mesmo sujeito.
 - II. As formas verbais antecedidas de **do que**, coordenadas entre si, estão subordinadas ao mesmo termo.
 - III. O artigo feminino usado em "... a cada início de ano..." é exigência do emprego do substantivo inspiração.
 - IV. Em "... de ano..." o sentido da preposição não particulariza o substantivo.
- a) São verdadeiras as proposições I e IV, apenas.
 - b) São verdadeiras as proposições I, II e III, apenas.
 - c) São verdadeiras as proposições II e IV, apenas.
 - d) São verdadeiras as proposições I, II, III e IV.
 - e) São verdadeiras as proposições III e IV, apenas.

14

Indique a opção em que se adotará na frase, obrigatoriamente, de acordo com a norma culta, a indicação dos parênteses para o verbo em negrito.

- a) Solicito que **considerar** tua decisão. (3ª pessoa do singular)
- b) Encaminhei os documentos para que Vossa Senhoria **avaliar** minha solicitação. (3ª pessoa do singular)
- c) Compreendo que Vossas Majestades **haver** de encontrar razões para esse desfecho. (2ª pessoa do plural)
- d) Os nobres deputados **pretender** me confundir nessa sessão? (2ª pessoa do plural)
- e) Quando não se **destacar**, num ser humano, as qualidades, ele pode ficar tímido. (3ª pessoa do singular)

15

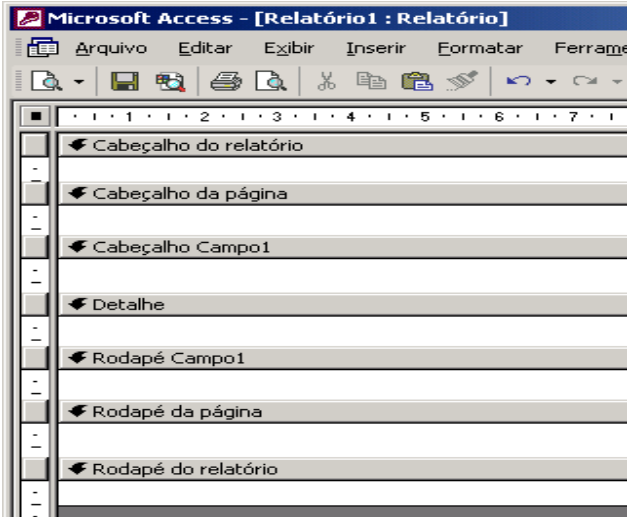
Está **CORRETO**, de acordo com a norma culta da língua, o emprego da expressão destacada na frase:

- a) As missões **a que** foste indicado são dignas.
- b) É ínfimo o preço **no que** pagas os serviços dos teus funcionários.
- c) É necessário **de que** se ofereçam bons estímulos aos funcionários.
- d) Felizes os pais **de cujos** filhos respeitam a Deus.
- e) Desconheço o motivo **do qual** escolheste este livro.

Noções de Informática

16

Estou usando o Microsoft Access 2002 para desenhar um relatório. A fonte de dados é uma tabela com 2.000 registros e os dados serão agrupados em função do campo "Campo1". No momento, meu protótipo de relatório tem a aparência ilustrada na figura abaixo, apresentando sete seções, todas elas com a propriedade "Visível" configurada para "Sim".



Sobre essas seções, analise as afirmações abaixo:

- I. As seções "Cabeçalho do relatório" e "Cabeçalho da página" *aparecerão* em todas as páginas do relatório.
- II. Com essa configuração de propriedade, "Visível" – "Sim", a seção "Cabeçalho Campo1" *aparecerá* no início de cada grupo e de cada página.
- III. Na seção "Detalhe" serão listados os dados selecionados a partir da fonte de dados do relatório.
- IV. Com essa configuração de propriedade, "Visível" – "Sim", a seção "Rodapé do relatório" *aparecerá* na última página.

Estão **CORRETAS**:

- a) todas as afirmações.
- b) I, III e IV, apenas.
- c) II e IV, apenas.
- d) I e II, apenas.
- e) III e IV, apenas.

17



A figura acima ilustra o menu apresentado pelo Microsoft Windows 2000 que tenho instalado em meu computador, quando clico em "Iniciar", seleciono "Programas" e "Acessórios". Sobre as opções, os aplicativos e as ferramentas disponibilizadas nesse menu, é **INCORRETO** afirmar que:

- a) Prompt de comando – abre uma janela na qual é possível executar funções baseadas em texto (linha de comando).
- b) Sincronizar – ferramenta para configurar a sincronia de dois aplicativos como o Word e o Excel, por exemplo.
- c) Paint – aplicativo destinado a edição de figuras e imagens.
- d) Bloco de notas – aplicativo destinado a edição de textos com formatação simples.
- e) WordPad – aplicativo que permite a edição de textos com formatação de média complexidade.

18

Dentre as opções abaixo uma está relacionada a um programa que interpreta o código **HTML** (*Hypertext Markup Language*). Esse programa é indispensável para a navegação na internet. Assinale tal opção.

- a) FTP (File Transfer Protocol).
- b) Cookie.
- c) Switch.
- d) Browser.
- e) Outlook Express.

19

Usando o Microsoft Word 2002 é possível formatar documentos rapidamente usando *estilos*.

“Um estilo é um conjunto de características de formatação que podem ser aplicadas ao texto, tabelas e listas. Ao aplicar um estilo, você aplica um grupo inteiro de formatos em uma simples operação.

Por exemplo, em vez de seguir três etapas separadas para formatar seu título como Arial, 16 pontos e centralizado, você pode obter o mesmo resultado em uma etapa aplicando o estilo de título.”

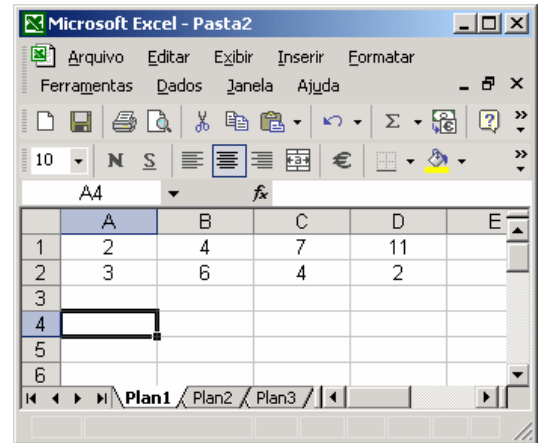
Extraído do texto de ajuda do Microsoft Word 2002

Sobre esse recurso, é **INCORRETO** afirmar:

- a) Um estilo de caractere afeta o texto do documento inteiro, como a fonte e o tamanho do texto, e os formatos negrito e itálico.
- b) Um estilo de parágrafo controla todos os aspectos da aparência de um parágrafo, como alinhamento do texto, espaçamento da linha e bordas e pode incluir formatação de caractere.
- c) Um estilo de tabela fornece uma aparência consistente para bordas, sombreamento, alinhamento e fontes em tabelas.
- d) Um estilo de lista aplica alinhamento, caracteres de numeração ou marcador e fontes semelhantes às listas.
- e) Um estilo pode ser exibido e reaplicado a partir do de tarefas **Estilos e formatação**. A formatação aplicada é também armazenada nesse painel, para que seja possível reaplicá-la rapidamente.

20

Considere a planilha do Microsoft Excel 2002, ilustrada a seguir.



Se as células A4, B4, C4 e D4 forem preenchidas com as expressões indicadas abaixo, os valores dessas células serão, respectivamente:

Célula	Expressão
A4	= $(A1+B1)^{D2/C2}$
B4	=SOMA(A1:D1)
C4	=MÉDIA(A1:D1)
D4	=MÁXIMO(SOMA(A1;D1);SOMA(A2:D2))

- a) 9; 13; 6,5 e 15
- b) 3; 13; 6,5 e 24
- c) 3; 24; 2,5 e 13
- d) 9; 24; 6 e 15
- e) 3; 5; 3,75 e 24

Conhecimentos Gerais

21

A economia maranhense durante o período imperial tinha como suporte dois produtos básicos, o algodão e o açúcar. A quase totalidade dessa produção ficava localizada:

- a) nas ribeiras do rio Tocantins.
- b) no sul do Maranhão.
- c) às margens do rio Itapecuru e em algumas cidades da Baixada.
- d) nos Lençóis Maranhenses.
- e) na microrregião da Chapada das Mangabeiras.

22

É recorrente, na literatura histórica, encontrar-se a expressão “Jornada Milagrosa” vinculada à:

- a) criação da Companhia de Comércio do Maranhão.
- b) luta pela independência do Maranhão.
- c) expulsão dos holandeses.
- d) expulsão dos franceses do Maranhão.
- e) catequese indígena no Maranhão.

23

É cada vez maior a dependência das economias nacionais, em especial das mais desenvolvidas, à frente os Estados Unidos, por recursos não renováveis produzidos no exterior do país. Por isso mesmo, inúmeros e recentes conflitos internacionais têm como verdadeira causa:

- o controle de fontes energéticas, em especial o petróleo.
- o controle das grandes rotas marítimas de comércio.
- a ocupação física das florestas.
- o domínio de áreas estratégicas do ponto de vista militar.
- a subordinação de contingentes populacionais a serem usados como mão-de-obra barata.

24

De acordo com informações apresentadas pela Companhia de Abastecimento de Águas e Esgotos do Maranhão – CAEMA, 91% da população de São Luís, ou seja, 931.191 habitantes recebem água tratada. Outrossim, no que diz respeito à coleta de esgoto, o número de pessoas beneficiadas atinge apenas 387.000, representando 38,6% da população da Capital. Nesse sentido, é válido afirmar que:

- não há nenhuma relação entre o percentual de coleta de esgotos (38,6%) e a mortalidade por doenças infecciosas e parasitárias (de veiculação hídrica) na cidade.
- há uma relação direta entre o percentual de coleta de esgotos (38,6%) e a mortalidade por doenças infecciosas e parasitárias (de veiculação hídrica) na cidade.
- a maior parte das águas residuais não é jogada *in natura* nos cursos dos rios e na orla marítima da cidade.
- a cobertura da rede de esgotos é moderna e garante o atendimento da população ludovicense.
- o rodízio no abastecimento e/ou a ausência de água em vários bairros da cidade não implica nenhum prejuízo para a população.

25

No contexto atual, há, na capital maranhense, aproximadamente 1.000 imóveis de valor histórico e paisagístico numa área de 90 hectares, sob proteção jurídica federal, situados nos bairros da Praia Grande, Desterro e Ribeirão e nas Praças Benedito Leite, João Lisboa e Gonçalves Dias. Ao proclamar São Luís como cidade "Patrimônio Cultural da Humanidade" em 1997, a UNESCO estabeleceu algumas pré-condições, e uma delas, em especial, que, caso não seja respeitada, pode fazer com que a cidade perca esse pomposo título. Trata-se do(a)

- modernização das praças localizadas em toda a área tombada.
- asfaltamento das ruas do centro histórico da cidade.
- retirada dos azulejos existentes nos casarões do bairro da Praia Grande.
- demolição de alguns sobrados localizados na área do bairro do Desterro.
- não implementação de políticas públicas permanentes de preservação do patrimônio histórico da cidade.

Conhecimentos Específicos

26

Calcule a renda de uma economia que apresenta os seguintes dados: consumo autônomo de 100 unidades monetárias-UM; investimento de 30 UM; gastos do governo igual a 20UM e propensão marginal a poupar de 25%:

- 500 UM
- 450 UM
- 600 UM
- 550 UM
- 650 UM

27

O país "P" apresentou, no ano de 200X, um PIB de 150.000.000 Unidades Monetárias-UM, enquanto a taxa de depreciação média foi de 10% a.a. No mesmo espaço de tempo, as exportações somaram 34.000.000 UM, enquanto as importações corresponderam a 25.000.000 UM. As empresas do referido país com filiais no exterior fizeram remessas de lucro 12.500.000 UM, enquanto o país pagou de juros aos bancos estrangeiros 19.500.000 UM. Ainda no mesmo ano, as empresas multinacionais que atuavam no país remeteram lucros e dividendos no montante de 8.700.000. A partir das informações anteriores, podemos afirmar que o Produto Nacional Bruto e o Produto Nacional Líquido em UM, correspondem, respectivamente, a:

- 163.070.000 e 138.070.000
- 144.370.000 e 119.370.000
- 178.370.000 e 153.370.000
- 100.370.000 e 125.370.000
- 100.370.000 e 135.370.000

28

Segundo a teoria econômica, a moeda é demandada pelos motivos transacional, precaucional, especulativo e financeiro (finance). Pode-se afirmar que Keynes desenvolveu os motivos:

- a) financeiro e especulativo.
- b) financeiro e precaucional.
- c) especulativo e transacional.
- d) transacional e precaucional.
- e) Especulativo e precaucional.

29

A redução da taxa de juros é considerada como não sendo capaz de afetar consideravelmente os investimentos, de acordo com:

- a) o Pós-keynesianos.
- b) os Institucionalistas.
- c) os Marxistas.
- d) a Síntese neoclássica de Keynes.
- e) os Novos clássicos.

30

Os agentes formam expectativas racionais, segundo:

- a) os Novos keynesianos.
- b) os Keynesianos.
- c) os Pós-keynesianos.
- d) a Síntese neoclássica de Keynes.
- e) os Novos clássicos.

31

Uma operação de mercado aberto, na qual foi realizada compra de títulos por parte da autoridade monetária

- a) somente será eficaz se for destinada à compra de ativos ilíquidos.
- b) será sempre eficaz para aumentar os investimentos.
- c) terá efeito pleno sobre o investimento se os recursos forem utilizados na aquisição de ativos financeiros em mercados secundários.
- d) terá efeito pleno sobre o investimento se os recursos forem usados para aquisição de ativos financeiros, em mercados primários, de firmas não-financeiras.
- e) não terá qualquer efeito sobre o investimento.

32

O aumento da alíquota do Imposto de Renda Pessoa Jurídica-IRPJ será suportado integralmente pela firma produtora de determinado bem, reduzindo conseqüentemente o seu lucro líquido segundo:

- a) os Ricardianos.
- b) os Keynesianos.
- c) os Neoclássicos.
- d) os Teóricos do mark-up.
- e) os Marxistas.

33

Para qual das alternativas, a elevação da dívida pública, decorrente da redução da tributação, é considerada como tendo efeito nulo sobre o consumo presente?

- a) Teoria quantitativa.
- b) Abordagem convencional da dívida pública.
- c) Lei de Wagner.
- d) Teoria Marxista.
- e) Teoria da equivalência ricardiana.

34

Dentre as alternativas abaixo relacionadas, aponte a que considera que o gasto público tende a crescer, em situações favoráveis, a elevação da carga tributária.

- a) Peacock e Wiseman.
- b) Defensores da curva de Laffer.
- c) Lei de Wagner.
- d) Seguidores da teoria do mark-up.
- e) Novos Keynesianos.

35

Segundo qual das correntes apontadas abaixo, os gastos públicos tendem a se elevar com o crescimento do produto e a melhoria das condições de vida da população?

- a) Novos clássicos.
- b) Peacock e Wiseman.
- c) Lei de Wagner.
- d) Teoria dos déficits gêmeos.
- e) Neoclássicos.

36

Sobre o efeito Tanzi e as finanças públicas, é **CORRETO** afirmar:

- O efeito Tanzi é utilizado para aumentar a arrecadação tributária.
- De acordo com o efeito Tanzi, quanto maior a inflação, maior a arrecadação real do governo.
- Segundo o efeito Tanzi, a inflação tende a corroer as despesas públicas.
- O efeito Tanzi afirma que o imposto inflacionário representa a taxa que o Banco Central impõe à coletividade, pelo fato de deter o monopólio das emissões.
- O efeito Tanzi demonstra que a inflação tende a corroer o valor da arrecadação fiscal do governo, pela defasagem existente entre o fato gerador e o recolhimento efetivo do imposto.

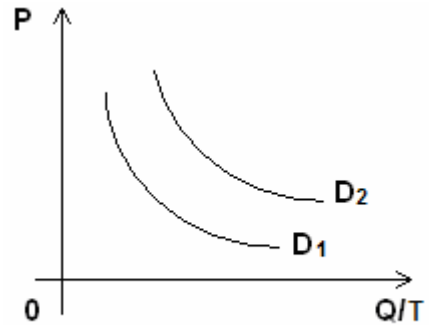
37

Com relação aos princípios teóricos da tributação, analise as alternativas abaixo e aponte a **CORRETA**:

- A função Alocativa ocorre quando o governo utiliza imposto com alíquotas progressivas, com o objetivo de impor maior ônus tributário às pessoas que auferem renda mais elevada.
- Na função Distributiva, o governo necessita intervir na economia para mitigar a desigualdade existente na divisão da renda nacional, considerando-se que a mesma é altamente concentrada.
- A função Estabilizadora é representada pela produção de bens públicos, como serviços de segurança e justiça, que também necessitam da intervenção do governo por serem indivisíveis e não excludentes.
- O objetivo principal da intervenção do governo, na função Alocativa, é controlar a demanda agregada, através, por exemplo, do controle dos gastos públicos e do crédito, e do aumento da tributação.
- A função Estabilizadora não implica aumento dos gastos públicos em qualquer situação.

38

Observe gráfico abaixo:



D1, a curva de procura original, deslocou-se para D2. Isso significa que:

- a procura aumentou.
- a procura diminuiu.
- não é possível determinar a mudança da procura.
- a procura permaneceu inalterada.
- a quantidade procurada diminuiu.

39

O coeficiente de elasticidade preço de procura pode ser definido como:

- variação percentual no preço dividida pela quantidade.
- variação percentual no preço dividida pela variação percentual na quantidade procurada.
- variação percentual na quantidade procurada dividida pelo preço.
- variação percentual na quantidade procurada dividida pela variação percentual no preço.
- variação absoluta na quantidade dividida pela variação absoluta do preço.

40

Se a elasticidade – cruzada da procura entre dois bens for negativa, é **CERTO** que:

- são substitutos entre si.
- são complementares entre si.
- tanto podem ser complementares quanto substitutos.
- não são bens econômicos.
- não são nem complementares nem substitutos.

41

Os bens considerados supérfluos geralmente têm elasticidade-renda da procura:

- a) $e_r > 1$
- b) $e_r < 1$
- c) $e_r = 1$
- d) $e_r < 0$
- e) $0 < e_r < 1$

42

No caso dos chamados bens de Giffen, encontraremos:

- a) curvas de oferta e procura que tanto podem ser positiva quanto negativamente inclinadas.
- b) tanto a curva de procura quanto a de oferta positivamente inclinadas.
- c) tanto a curva da procura quanto a de oferta negativamente inclinadas.
- d) uma curva de procura negativamente inclinada e uma de oferta positivamente inclinada.
- e) uma curva de procura positivamente inclinada e uma curva de oferta negativamente inclinada.

43

A lei dos rendimentos decrescentes diz respeito à combinação entre dois recursos de forma que:

- a) quando se aumenta a quantidade de um deles, sendo o outro constante, ocorrerão, em todos os estágios de produção, rendimentos decrescentes, uma vez que os recursos econômicos são escassos.
- b) é possível aumentar indefinidamente a produção total de uma firma, bastando para tanto aumentar indefinidamente o recurso variável.
- c) há um limite absoluto ao produto total de uma firma e, por isso, por mais que se aumente o recurso variável o produto total permanecerá constante.
- d) quando se aumenta a quantidade de um deles, sendo o outro constante, a produção total assim obtida aumentará até certo ponto, além do qual o acréscimo da produção será cada vez menor.
- e) é sempre possível, com a utilização de modernas técnicas gerenciais, aumentar a quantidade do recurso variável sem incorrer em rendimentos decrescentes.

44

Sabemos que:

- a) quando o produto médio é decrescente, o marginal é maior que o médio.
- b) quando o produto médio é decrescente, o marginal é menor que o médio.
- c) quando o produto médio é decrescente, o marginal é igual ao médio.
- d) quando o produto médio é crescente, o marginal é menor que o médio.
- e) quando o produto médio é máximo, o marginal também é máximo.

45

Segundo o princípio da chamada teoria da produção:

- a) as razões entre o recurso variável e o fixo são mais eficientes no Estágio III.
- b) as razões entre o recurso variável e o fixo são mais eficientes no Estágio I.
- c) as razões entre o recurso variável e o fixo são mais eficientes no Estágio II.
- d) as razões entre o recurso variável e o fixo são igualmente eficientes em todos os Estágios.
- e) não é possível calcular a eficiência das razões entre o recurso variável e o fixo em qualquer Estágio.

46

Considerando uma firma que utilize três recursos variáveis — A, B e C para determinado tamanho e os preços desses recursos são, respectivamente, p_a , p_b e p_c e além disso, o produto marginal de A = PMg_a , o produto marginal de B = PMg_b , o produto marginal de C = PMg_c . Assim, para que o custo variável médio seja tão baixo quanto possível, os recursos devem ser combinados de tal forma que:

- a) $\frac{PMg_a}{p_a} = \frac{PMg_b}{p_b} = \frac{PMg_c}{p_c}$
- b) $\frac{PMg_b}{p_b} > \frac{PMg_a}{p_a} > \frac{PMg_c}{p_c}$
- c) $\frac{PMg_b}{p_b} < \frac{PMg_a}{p_a} < \frac{PMg_c}{p_c}$
- d) $\frac{PMg_a}{p_b} = \frac{PMg_b}{p_c} = \frac{PMg_c}{p_a}$
- e) $\frac{PMg_a}{p_c} = \frac{PMg_b}{p_a} = \frac{PMg_c}{p_b}$

47

O monopolista, ao contrário da firma puramente competitiva, defronta-se com a curva de procura do mercado, para seu produto. Por essa razão:

- a) a receita marginal, em diferentes níveis de venda, será igual ao seu preço unitário.
- b) a receita marginal, em diferentes níveis de venda, será maior que o preço unitário.
- c) a receita marginal, em diferentes níveis de venda, será menor que o preço unitário.
- d) a elasticidade-preço da procura, em qualquer trecho da sua curva de procura, é sempre maior que 1.
- e) a elasticidade-preço da procura, em qualquer trecho da sua curva de procura, é sempre menor que 1.

48

Podemos afirmar que, entre outros efeitos, nos mercados oligopolizados, observamos, quando é possível compará-lo a concorrência pura:

- a) mesmos níveis de produção e preço; menores custos médios; tamanho operacional abaixo do ótimo; maior variedade de produtos a disposição do consumidor.
- b) produção maior, embora com o aumento de preço; maiores custos médios; menor variedade de produtos; tamanho operacional ótimo.
- c) produção maior, com menor custo médio; opera acima do seu tamanho ótimo; menor qualidade dos produtos; menores preços.
- d) restrições à produção e aumento de preços; preços excedem custo médio; normalmente as firmas operam fora do seu tamanho ótimo; o oligopólio diferenciado proporciona maior variedade de produtos ao consumidor.
- e) restrições à produção, com diminuição dos preços; preços iguais aos custos médios; tamanho operacional ótimo; lucros extraordinários.

49

Considerando um arranjo de dados numéricos brutos em ordem crescente ou decrescente de grandeza, chama-se amplitude total dos dados:

- a) a soma entre o maior e o menor número do rol.
- b) a diferença entre o maior e o menor número do rol.
- c) a multiplicação do maior pelo menor número do rol.
- d) a divisão do maior pelo menor número do rol.
- e) a média entre o maior e menor número do rol.

50

A análise de regressão simples serve para:

- a) testar hipóteses sobre a relação entre duas variáveis dependentes (Y e Z) e uma variável independente (X).
- b) testar hipóteses sobre a relação entre duas ou mais variáveis independentes ou explicativas.
- c) medir o desvio de cada valor observado de X da linha de regressão.
- d) traçar uma figura na qual cada par de observação é transformado em um ponto no plano.
- e) testar hipóteses sobre a relação entre uma variável dependente (Y) e uma variável independente (X) e para predições.