

PROVA OBJETIVA

MOTORISTA

INSTRUÇÕES

- Verifique se este caderno contém 40 questões, sendo 10 de Língua Portuguesa, 10 de Matemática, 05 de Conhecimentos Gerais e 15 de Conhecimentos Específicos.
- Verifique na Folha de Respostas se o seu nome e número do documento de identificação estão corretos.
- Em cada questão, você deve assinalar somente uma das alternativas.
- Será anulada a questão que contiver emenda, rasura ou, ainda, a que apresentar mais de uma alternativa assinalada na Folha de Respostas.
- Ao marcar a alternativa correta na Folha de Respostas, use caneta esferográfica de tinta preta, ponta grossa.
- Ao final da prova, devolva ao fiscal de sala a Folha de Respostas assinada no local indicado.
- Os 2 (dois) últimos candidatos de cada sala só poderão ser liberados juntos.

CERTO

	A	B	C	D	E
1	<input checked="" type="radio"/>	<input type="radio"/>	<input type="radio"/>	<input type="radio"/>	<input type="radio"/>
2	<input type="radio"/>	<input checked="" type="radio"/>	<input type="radio"/>	<input type="radio"/>	<input type="radio"/>
3	<input type="radio"/>	<input type="radio"/>	<input checked="" type="radio"/>	<input type="radio"/>	<input type="radio"/>
4	<input type="radio"/>	<input type="radio"/>	<input type="radio"/>	<input checked="" type="radio"/>	<input type="radio"/>
5	<input type="radio"/>	<input type="radio"/>	<input type="radio"/>	<input type="radio"/>	<input checked="" type="radio"/>
6	<input type="radio"/>	<input type="radio"/>	<input type="radio"/>	<input type="radio"/>	<input checked="" type="radio"/>

ERRADO

	A	B	C	D	E
21	<input checked="" type="radio"/>	<input type="radio"/>	<input type="radio"/>	<input type="radio"/>	<input type="radio"/>
22	<input type="radio"/>	<input checked="" type="radio"/>	<input type="radio"/>	<input type="radio"/>	<input type="radio"/>
23	<input type="radio"/>	<input checked="" type="radio"/>	<input type="radio"/>	<input type="radio"/>	<input type="radio"/>
24	<input type="radio"/>	<input checked="" type="radio"/>	<input type="radio"/>	<input type="radio"/>	<input type="radio"/>
25	<input type="radio"/>	<input checked="" type="radio"/>	<input type="radio"/>	<input type="radio"/>	<input type="radio"/>
26	<input checked="" type="radio"/>	<input type="radio"/>	<input type="radio"/>	<input checked="" type="radio"/>	<input type="radio"/>

Boa prova!

A duração total da prova é de 3 horas. Este tempo inclui a marcação da Folha de Respostas.
Você só poderá levar o Caderno de Provas após transcorridas 2h 30 min (duas horas e trinta minutos) do início das provas.

NOME _____

INSCRIÇÃO _____

DATA / HORÁRIO _____



Língua Portuguesa

Leia o texto **A** para responder às questões de **01** a **04**

TEXTO A

O desenvolvimento de políticas intersetoriais para a primeira infância é uma das chaves para a superação da violência em nossa sociedade. Este foi um dos eixos de discussão de um seminário realizado no Senado, e mobilizou especialistas no tema de várias áreas – da saúde à educação, passando pela assistência social.

(Revista Educação, ano 11, n.º. 29, Janeiro/2008).

01

A partir da leitura do texto, pode-se inferir que:

- I. Apenas profissionais da área da saúde, educação e assistência social participaram do seminário.
- II. Há várias outras ações que ajudam na superação da violência.
- III. O tema principal do seminário foi a assistência social na primeira infância.

Está **CORRETO** o que se afirma

- a) nos itens I, II e III.
- b) apenas no item II.
- c) apenas no item III.
- d) apenas no item I.
- e) apenas nos itens II e III.

02

No texto, a forma verbal **mobilizou** tem o mesmo sentido de

- a) escolheu.
- b) motivou.
- c) minimizou.
- d) movimentou.
- e) sensibilizou.

03

O uso do travessão no final do texto **A** tem a finalidade de:

- a) pôr em evidência uma especificação.
- b) substituir uma vírgula junto ao aposto.
- c) separar uma frase.
- d) indicar um diálogo.
- e) indicar uma citação.

Observe o quadro a seguir com palavras retiradas do texto **A** e responda à questão **04**.

políticas – infância – violência – seminário –
assistência – áreas – saúde

04

Em relação à acentuação, leia as afirmativas.

- I. De acordo com a posição da sílaba tônica, as palavras “políticas” e “saúde” são proparoxítonas.
- II. As palavras “infância”, “seminário” e “assistência” são acentuadas obedecendo a uma mesma regra.
- III. Em “áreas” o acento pode ser considerado diferencial.

Está **CORRETO** o que se afirma em:

- a) II e III, apenas.
- b) I, II e III.
- c) II, apenas.
- d) I, apenas.
- e) I e II, apenas.

O texto a seguir apresenta algumas incorreções intencionais. Leia-o com atenção e responda às questões **05**, **06** e **07**.

De manhazinha, ele vai para sua labuta. Seu trabalho é vijiar a repartissão com cuidado e resistrar as ocorrencias em um relatório proprio. Isso lhe faz bem.

(I. M. & V. B.)

05

Todas as palavras incorretas do texto ficarão **CORRETAS** da forma que estão escritas na opção:

- a) elê, vijiar, repartição, rezistrar, ocorências, propio.
- b) ele, vigear, reparstição, rezistrar, ocorrenciás, propio.
- c) elê, vijjá, repartição, registrar, ocorrêcias, próprio.
- d) ele, vijiar, repartissão, rezistrar, ocorrenciais, propio.
- e) ele, vijiar, repartição, registrar, ocorrências, próprio.

06

Com a expressão grifada no texto, as autoras dizem o mesmo que

- a) Logo cedo
- b) Antes que seja tarde
- c) Brevemente
- d) Com rapidez
- e) Desde que escurece

07

No texto a palavra **labuta** tem sentido, também denotativo, de

- a) fadiga.
- b) viagem.
- c) caminhada.
- d) labor.
- e) distração.

Leia a tira abaixo, em que Jon conversa com seu gato, chamado Garfield. Observe a linguagem verbal e não-verbal e responda às questões **08** e **09**.



(Garfield: Toneladas de diversão - Jim Davis)

08

Pode-se compreender da leitura da tira que:

- a) Jon ficou feliz com a risada do seu gato.
- b) Garfield riu antes da piada para chatear seu dono.
- c) A graça da piada fez Garfield rir com exagero.
- d) O primeiro quadro indica a alegria antecipada de Garfield.
- e) Garfield achou graça antes e depois da piada.

09

Na frase do último quadrinho, a vírgula é usada para

- a) indicar término de frase.
- b) separar um sujeito.
- c) destacar um aposto.
- d) substituir um ponto final.
- e) separar um vocativo.

10

Em qual das alternativas a seguir todas as palavras estão grafadas de forma **CORRETA**?

- a) perpetu, driblar, nebrina
- b) passoca, privilégio, somatório
- c) driblar, paçoca, crescer
- d) largatixa, cuscus, crecer
- e) crescer, somatório, nebrina

Matemática

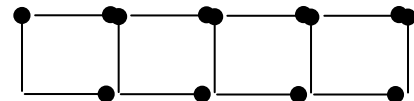
11

Seja N o maior número natural tal que 574 dividido por N deixa resto 15 e 754 dividido por N deixa resto 23. Assim, o valor relativo do algarismo das dezenas do número N é:

- a) 40
- b) 70
- c) 60
- d) 50
- e) 20

12

Uma pessoa gosta de brincar formando figuras com palitos de fósforos sobre uma mesa. Ela forma uma fileira de quadrados, um ao lado do outro, como mostrado na figura abaixo.



Usando duas caixas de fósforos, cada uma com 45 palitos, dá para formar:

- a) 22 quadrados e não sobram palitos.
- b) 32 quadrados e sobram 3 palitos.
- c) 22 quadrados e sobram 2 palitos.
- d) 39 quadrados e sobram 3 palitos.
- e) 29 quadrados e sobram 2 palitos.

13

O proprietário de uma fazenda possui uma quantidade de bois maior que 140 e menor que 170. Observou que contando de 12 em 12, de 18 em 18, de 24 em 24, sempre sobravam 6.

Assim, o número de bois existentes nessa fazenda é:

- a) 148
- b) 152
- c) 150
- d) 158
- e) 164

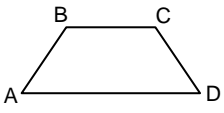
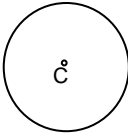
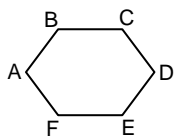

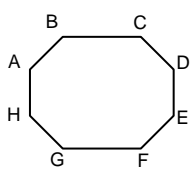
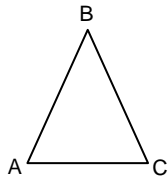
14

Um comerciante adquiriu um barril de vinho de 375 litros por R\$ 2.225,00. Pagou pelo transporte R\$ 4,50 por litro e desejando ter um lucro de R\$ 962,50, por quanto deverá vender um litro de vinho?

- a) R\$ 18,00
- b) R\$ 13,00
- c) R\$ 17,50
- d) R\$ 21,30
- e) R\$ 26,00

15

Enumere a 2ª coluna, constituída de figuras geométricas planas, com os seus nomes respectivos indicados na 1ª coluna. Em seguida, marque a alternativa que contém a seqüência correta de respostas:

1ª COLUNA	2ª COLUNA
1) Triângulo	() 
2) Retângulo	() 
3) Trapézio	() 
4) Hexágono	() 
5) Octógono	() 
6) Circunferência	() 

- a) 1 – 3 – 5 – 4 – 6 – 2
- b) 2 – 5 – 1 – 4 – 3 – 6
- c) 1 – 4 – 6 – 3 – 5 – 2
- d) 3 – 6 – 4 – 2 – 5 – 1
- e) 3 – 6 – 2 – 1 – 4 – 5

16

Alguns remédios para uso infantil têm a dosagem estabelecida de acordo com o peso da criança. Por exemplo, uma gota para cada um quilograma. Na bula de um antitérmico para crianças, a dosagem indicada é de uma gota para cada um quilograma e meio de peso. De acordo com essa recomendação, o número de gotas desse medicamento para uma criança de 12 kg é:

- a) 6
- b) 8
- c) 9
- d) 10
- e) 12

17

Pedro gastou em uma loja $\frac{1}{4}$ do que possuía. Em seguida, em um supermercado, gastou $\frac{2}{3}$ do que havia sobrado após a compra na loja. Se Pedro ainda possui R\$ 76,50, então antes da compra na loja ele possuía:

- a) R\$ 296,00
- b) R\$ 208,00
- c) R\$ 401,00
- d) R\$ 306,00
- e) R\$ 408,00

18

Um terreno de forma retangular possui 5 km de comprimento e 1000 m de largura, conforme indicação na figura a seguir:



Deseja-se lotear esse terreno com lotes de 2000 m². Assim, o número de lotes obtidos é:

- a) 2.500
- b) 25.000
- c) 12.500
- d) 5.200
- e) 15.200

19

Uma revendedora de automóvel anuncia a seguinte promoção.

Veículo Novo

- 35% de Entrada
- Restante em 12 prestações iguais, sem juros.

Sabendo-se que a entrada corresponde a R\$ 6.300,00, o valor previsto para cada prestação será:

- R\$ 895,00
- R\$ 1.200,00
- R\$ 1.075,00
- R\$ 1.240,00
- R\$ 975,00

20

A quantidade de vezes que $\frac{1}{10}$ cabe em $\frac{3}{5}$ é:

- 12
- 8
- 6
- 10
- 9

Conhecimentos Gerais

21

Na Ilha de São Luís, localizam-se 4 municípios, a saber:

- São Luís, São José de Ribamar, Rosário e Raposa.
- São Luís, São José de Ribamar, Paço do Lumiar e Alcântara.
- São Luís, São José de Ribamar, Paço do Lumiar e Raposa.
- São Luís, São José de Ribamar, Itapecuru e Paço do Lumiar.
- São Luís, São José de Ribamar, Alcântara e Rosário.

22

São grandes atrações turísticas do Maranhão:

- Lençóis Maranhenses, bumba-meu-boi, conjunto arquitetônico da Praia Grande.
- Centro de Lançamento de Alcântara, Estádio Castelão, Viaduto do Trabalhador.
- Palácio Henrique de La Rocque Almeida, Rio Itapecuru, Estrada de Ferro São Luís -Teresina.
- Porto do Itaqui, fábrica da Alumar, Porto da Ponta da Madeira.
- Vegetação dos cerrados, os campos da Baixada, a Igreja do Carmo.

23

A bandeira do Estado do Maranhão foi idealizada pelo poeta Sousândrade. As cores que a compõem (vermelho, branco e preto) representam:

- as tradições históricas maranhenses.
- as riquezas minerais do estado.
- as florestas nativas.
- os valores culturais do estado.
- as raças formadoras do povo maranhense: o índio, o branco e o negro.

24

Pai Francisco e Catirina são personagens tradicionais da festa popular mais importante do Maranhão. Essa festa é:

- Carnaval.
- Bumba-meu-boi.
- Festa do Divino Espírito Santo.
- Festa de Reis.
- Festejos de São José de Ribamar.

25

Grande parte da população de São Luís não encontra emprego nas empresas formalmente constituídas. Em qual das opções se encontra uma das formas de sobrevivência encontrada por essa população?

- a) Extrativismo comercial.
- b) Comércio de exportação.
- c) Cooperativas industriais.
- d) Comércio informal.
- e) Pequenas empresas de alta tecnologia.

Conhecimentos Específicos

26

A soberania popular no nosso País é exercida por meio do voto direto e secreto, com valor igual para todos. Partindo desta informação, classifique as afirmativas a seguir em verdadeiras (**V**) ou falsas (**F**).

- () Os analfabetos não podem ser eleitos, mas podem exercer o direito ao voto.
- () Estar em pleno exercício dos direitos políticos é condição para concorrer a cargo eletivo.
- () A idade mínima requerida para o cidadão se candidatar a vereador é vinte e cinco anos.
- () No Brasil, não é necessário estar filiado a partido político para ser eleito a cargo público.

Marque a opção que contém a seqüência **CORRETA** das respostas.

- a) F, F, V, V.
- b) F, V, F, V.
- c) V, F, V, F.
- d) V, V, F, V.
- e) V, V, F, F.

27

São ações fundamentais para o desenvolvimento do trabalho em equipe:

- a) Dividir papéis e funções e definir metas; estimular a concorrência interpessoal; desacreditar o membro perante o grupo; impor limites à iniciativa das pessoas.
- b) Centralizar ações; estimular a concorrência interpessoal; impor metas e resultados ao grupo; desacreditar a importância dos indivíduos frente à equipe.
- c) Impor valores e procedimentos às pessoas; estabelecer unilateralmente objetivos e metas; tornar obrigatória a participação em reuniões; desestimular o diálogo.
- d) Definir coletivamente metas, papéis e funções; reconhecer os talentos individuais das pessoas; promover boas relações interpessoais e delegar competências.
- e) Adiar a resolução de problemas de relacionamento; impor valores e procedimentos aos membros do grupo; não discutir as ações no grupo e cobrar resultados superiores aos planos elaborados.

28

Analise as afirmativas a seguir, atribuindo “**D**” àquelas associadas a deveres e “**P**” às associadas a proibições impostas aos servidores públicos.

- () Facilitar e colaborar para a fiscalização de todos os atos e serviços pelos órgãos de controle.
- () Comunicar aos seus superiores hierárquicos qualquer ato ou fato contrário ao interesse público.
- () Desviar subordinado para atendimento de interesse particular.
- () Exigir de seus superiores a adoção de providências contra atos imorais, ilegais ou ilegítimos praticados por colegas de trabalho.
- () Usar informações privilegiadas, obtidas em função do exercício do cargo público, para obter vantagens pessoais para parentes ou amigos.

Marque a opção que contém a seqüência **CORRETA** das respostas.

- a) D, P, P, D, P.
- b) P, P, D, P, D.
- c) D, D, P, D, P.
- d) P, D, D, D, P.
- e) D, D, P, P, D.

29

Em relação a exigências para o transporte de escolares, marque a alternativa **INCORRETA**.

- a) É exigido ao motorista que ele seja habilitado na categoria AC.
- b) É necessário que o número de cintos de segurança seja em número igual ao de usuários da lotação.
- c) É obrigatório o uso de equipamento inalterável, quanto a velocidade e tempo.
- d) É necessário inspeção semestral de segurança no veículo.
- e) É exigido pintura com dístico escolar no veículo utilizado.

30

O motorista, atento, trafegando em uma via, vê uma placa alertando sobre um estreitamento de pista adiante. Ele identifica esta placa como sendo de:

- a) obras.
- b) advertência.
- c) indicação.
- d) regulamentação.
- e) atrativo turístico.

31

Os sinais luminosos servem para controlar e advertir:

- a) o fluxo de motociclistas.
- b) somente o fluxo de veículos.
- c) os condutores, apenas.
- d) os fluxos de pedestres e veículos.
- e) somente o fluxo de pedestres.

32

Leia com atenção as alternativas abaixo e marque a **CORRETA**.

- a) Amperímetro: indica a carga do alternador e a descarga da bateria.
- b) Termômetro: indica a pressão do óleo do motor.
- c) Odômetro: indica o nível de combustível.
- d) Voltímetro: indica a quilometragem através do número de voltas na roda.
- e) Manômetro: indica o nível de água no radiador.

33

Fazem parte do sistema de freio e de embreagem:

- a) lonas de freio, aditivo, junta homocinética e pivôs.
- b) cilindro mestre, disco, tambor, platô e disco de fricção.
- c) cabos primários, travas, cabo secundário, molas e amortecedores.
- d) coroa/pinhão, lonas, pedal e câmbio.
- e) eixo primário, eixo secundário, trem de engrenagens, bandejas e barras de sustentação.

34

João está dirigindo um veículo e, de repente, começa a chover muito forte e a visibilidade diminui. O que João deve fazer imediatamente?

- a) acender as luzes do carro e trafegar normalmente sem diminuir a velocidade.
- b) frear bruscamente para reduzir a velocidade.
- c) acender o pisca alerta.
- d) aumentar um pouco a velocidade e ir para o acostamento esperar a chuva passar.
- e) diminuir a velocidade e manter uma distância segura dos demais veículos.

35

O policial que dá sinal com dois silvos breves indica:

- a) pare o veículo.
- b) diminua a marcha.
- c) passe depressa.
- d) mantenha-se à esquerda.
- e) mantenha-se à direita.

36

Uma pessoa foi atropelada e está caída no meio da rua. O que fazer em primeiro lugar?

- a) Iniciar o atendimento à vítima no local.
- b) Remover a pessoa para a calçada.
- c) Anotar a placa do veículo causador do acidente, correndo atrás do mesmo.
- d) Tentar chamar algum parente da vítima.
- e) Sinalizar o local para evitar outros acidentes.

37

A infração por deixar de prestar ou providenciar socorro à vítima de acidente de trânsito, podendo fazê-lo, é considerada

- a) não punível.
- b) grave.
- c) gravíssima.
- d) média.
- e) leve.

38

Atingindo vinte pontos na sua CNH no prazo de doze meses, o condutor poderá sofrer

- a) cancelamento da sua habilitação.
- b) suspensão do direito de dirigir.
- c) cassação da sua CNH.
- d) prisão.
- e) uma advertência.

39

O condutor envolvido em acidente de trânsito, sendo considerado culpado, além da punição, deverá prestar exames de aptidão física e primeiros socorros e ainda se submeter a

- a) reciclagem sobre legislação de trânsito, somente.
- b) exame de direção veicular.
- c) exame de reflexos.
- d) curso de reciclagem, exame teórico, e de direção veicular.
- e) exame escrito de legislação de trânsito, apenas.

40

Trata-se de documento de porte obrigatório:

- a) o manual do proprietário.
- b) o CRV (certificado de registro de veículo).
- c) o CRLV (certificado de registro e licenciamento de veículo).
- d) o código de trânsito brasileiro.
- e) a cópia da CNH ou PPD.